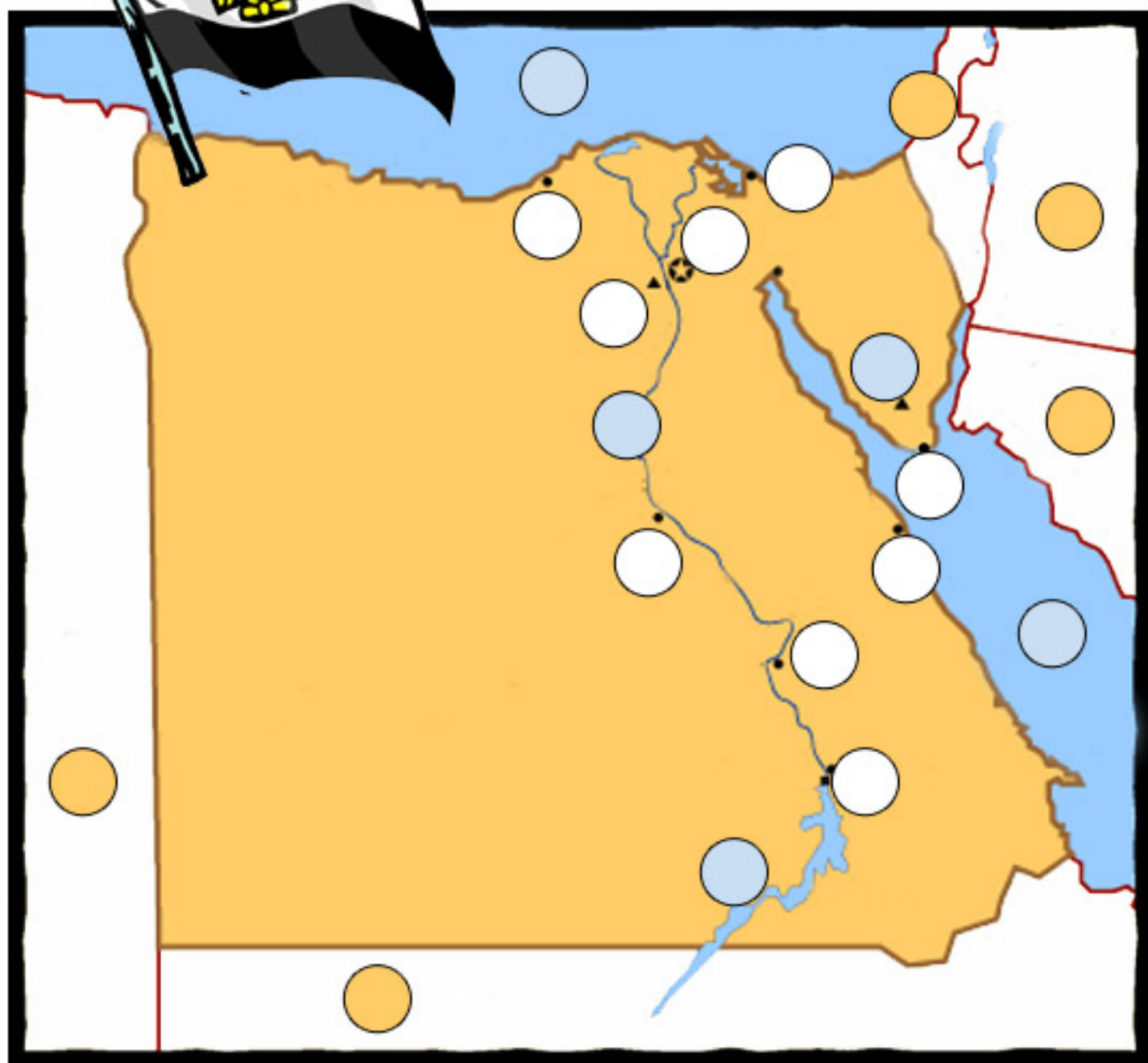







EGYPTEN



Kan du sätta rätt siffra i ringen på kartan?

- | | | |
|--|--|---|
|  GRANNLÄNDER: |  STÄDER: |  HAV, SJÖAR, FLODER OCH BERG: |
| 1. SUDAN | 6. KAIRO | 15. NILEN |
| 2. LIBYEN | 7. ALEXANDRIA | 16. MEDELHAVET |
| 3. ISRAEL | 8. ASYUT | 17. RÖDA HAVET |
| 4. JORDANIEN | 9. LUXOR | 18. NASSERSJÖN |
| 5. SAUDI ARABIEN | 10. ASWAN | 19. MT SINAI |
| | 11. SUEZ | |
| | 12. PORT SAID | |
| | 13. HURGHADA | |
| | 14. SHARM EL SHEIK | |